
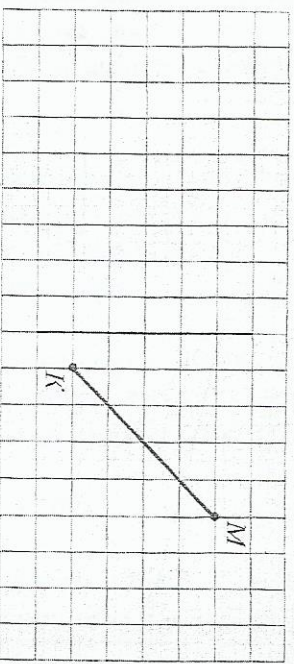


Вариант 2

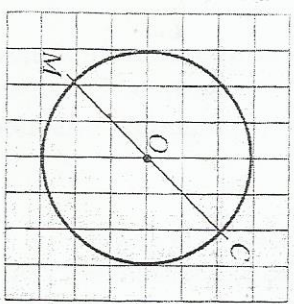
1. Выдели цветом симметричные точки.



2. Построй отрезок, симметричный отрезку MK относительно оси.




3. Симметрична ли окружность с центром в точке O относительно оси MC ?



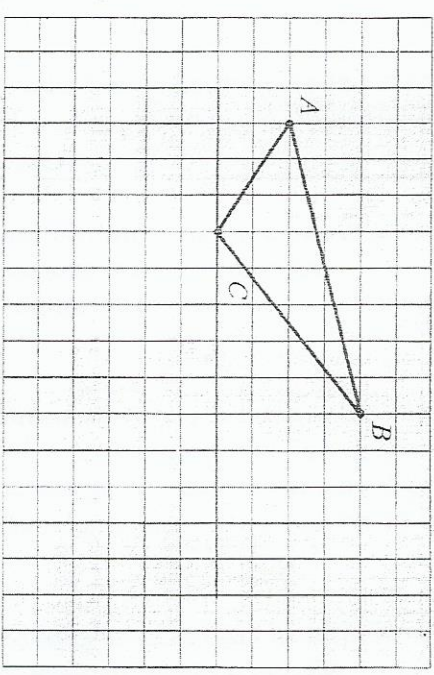
Отметь знаком \checkmark правильный ответ.
Да Нет
Построй ещё одну ось симметрии окружности.

Вариант 3


1. Выдели цветом симметричные точки.



2. Построй треугольник, симметричный треугольнику ABC относительно оси.



3. Правильно ли проведена ось симметрии прямоугольника?



Отметь знаком \checkmark правильный ответ.
Да Нет
Для данного прямоугольника проведи ось симметрии BK , отличную от оси XU .